



Escuela Atenea
Cañete n° 1631-Conchalí
Fono: 232446118

Asignatura: Educación Matemática
Profesora: Sofía Elena Quijada Torres
Asistente de la Educación: Nicol Mella

CUADERNILLO N°2

EDUCACIÓN MATEMÁTICA

ESTUDIANDO EN CASA



Asignatura: Educación Matemática	Curso: 1° Año Básico	Fecha: 08-04-2020
Unidad Temática: N°1 Números y operaciones		
Nombre de la Estudiante: _____		
Nombre del Apoderado: _____		



Escuela Atenea
Cañete n° 1631-Conchalí
Fono: 232446118

Asignatura: Educación Matemática
Profesora: Sofía Elena Quijada Torres
Asistente de la Educación: Nicol Mella

INSTRUCTIVO PARA DESARROLLAR ACTIVIDADES DE APRENDIZAJE EN CASA
Profesora: Sofía Elena Quijada Torres

Asignatura: Educación Matemática	Curso: 1° Año Básico	Fecha: 08-04-2020
Unidad Temática: N°1 Números y operaciones		
Nombre de la Estudiante:		

Objetivos de Aprendizaje:

OA_1: Contar números naturales del 0 al 15.

OA_3: Leer números del 0 al 15 y representarlos de manera concreta, pictórica y simbólica.

OA_4: Comparar y ordenar números del 0 al 15.

OA_6: Componer y descomponer números del 0 al 15 de manera aditiva de forma concreta, pictórica y simbólica.

INSTRUCCIONES GENERALES PARA PADRES Y/O TUTORES

1.- Para el desarrollo de las actividades les sugiero organizarse siguiendo el **HORARIO SEMANAL DE CLASES**, es decir, cada día hacer distintas lecciones y no dejar todo para el último día, así evitaremos un posible desinterés y/o agotamiento de las estudiantes.

2.- Todas las actividades que desarrollen en el Cuaderno, Texto Escolar y/o Cuadernillo de Actividades deben ser realizadas con lápiz de mina.

3.- Las actividades deben ser realizadas por las estudiantes, de este modo sabremos que aprendieron y que es necesario retroalimentar.

4.- Recuerden que frente a dudas relacionadas con las actividades propuestas, ustedes podrán realizar consultas en el siguiente correo electrónico: primerobasicoatenea@gmail.com Para lograr una comunicación efectiva, sigan las indicaciones que aparecen a continuación:

*Escriba el nombre del apoderado.

*Escriba el nombre de la estudiante.

*Asignatura, nombre de la actividad y número de página.

5.- Estas actividades serán revisadas y evaluadas formativamente. La idea es ir retroalimentado y monitoreando los aprendizajes de las estudiantes.

6.- Por favor realice las actividades junto a su pupila según las indicaciones entregadas. No se adelante en las tareas. La idea es que todas las niñas vayan avanzando de forma paralela.

7.- Recuerde que todas las tareas son subidas al [Facebook: Escuela Atenea y página Web del colegio: www.escuelaatenea.cl](https://www.facebook.com/Escuela-Atenea-y-página-Web-del-colegio). También son enviadas por nuestro correo electrónico primerobasicoatenea@gmail.com y WhatsApp del curso. La idea es llegar a toda la comunidad con las actividades y propiciar que todas nuestras niñas tengan la posibilidad de acceder a su material de estudio.















Escuela Atenea
Cañete n° 1631-Conchalí
Fono: 232446118

Asignatura: Educación Matemática
Profesora: Sofía Elena Quijada Torres
Asistente de la Educación: Nicol Mella

- Observa atentamente las imágenes y cuenta objetos hasta el 5.
- Luego une con una línea, según corresponda.

	<table border="1"><tbody><tr><td>1</td></tr><tr><td>2</td></tr><tr><td>3</td></tr><tr><td>4</td></tr><tr><td>5</td></tr></tbody></table>	1	2	3	4	5	
1							
2							
3							
4							
5							
							
							
							
							

- Con la ayuda de un adulto, escribe con palabras los siguientes números.

1	2	3	4	5



Escuela Atenea
Cañete n° 1631-Conchalí
Fono: 232446118

Asignatura: Educación Matemática
Profesora: Sofía Elena Quijada Torres
Asistente de la Educación: Nicol Mella

- Representamos números hasta el 5.
- Pinta la secuencia según corresponda llegando siempre hasta el 5.

1					
2					
3					
4					
5					

- Observa atentamente las imágenes y colorea los casilleros según corresponda al número de objetos que aparecen.

<input type="checkbox"/> <input type="checkbox"/> <input type="checkbox"/> <input type="checkbox"/> <input type="checkbox"/>	<input type="checkbox"/> <input type="checkbox"/> <input type="checkbox"/> <input type="checkbox"/> <input type="checkbox"/>	<input type="checkbox"/> <input type="checkbox"/> <input type="checkbox"/> <input type="checkbox"/> <input type="checkbox"/>
<input type="checkbox"/> <input type="checkbox"/> <input type="checkbox"/> <input type="checkbox"/> <input type="checkbox"/>	<input type="checkbox"/> <input type="checkbox"/> <input type="checkbox"/> <input type="checkbox"/> <input type="checkbox"/>	



Escuela Atenea
Cañete n° 1631-Conchalí
Fono: 232446118



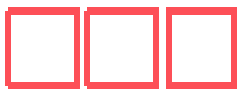
Asignatura: Educación Matemática
Profesora: Sofía Elena Quijada Torres
Asistente de la Educación: Nicol Mella

- Representemos los numeros hasta el 5.
- Un adulto lee las siguientes indicaciones a la estudiante:

Las niñas de Primer Año Básico, decidieron hacer una fiesta para celebrar la vuelta al colegio. La maestra Sofía, llevo helados y les pidio a las niñas que armaran helados. Observa el ejemplo y arma cada helado dibujando las bolitas correspondientes.



- Cuenta los objetos y une con una línea según corresponda.





Escuela Atenea
Cañete n° 1631-Conchalí
Fono: 232446118

Asignatura: Educación Matemática
Profesora: Sofía Elena Quijada Torres
Asistente de la Educación: Nicol Mella

- Sigamos las siguientes instrucciones:

Nicol pidió una torta para su cumpleaños, decórala según sus indicaciones

Indicaciones leídas por un adulto:

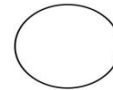
- 5 estrellas rojas




- 3 lunas azules



- 2 círculos café de chocolate



- 1 vela grande y amarilla





Escuela Atenea
Cañete n° 1631-Conchalí
Fono: 232446118

Asignatura: Educación Matemática
Profesora: Sofía Elena Quijada Torres
Asistente de la Educación: Nicol Mella

Lee en voz alta los siguientes números:

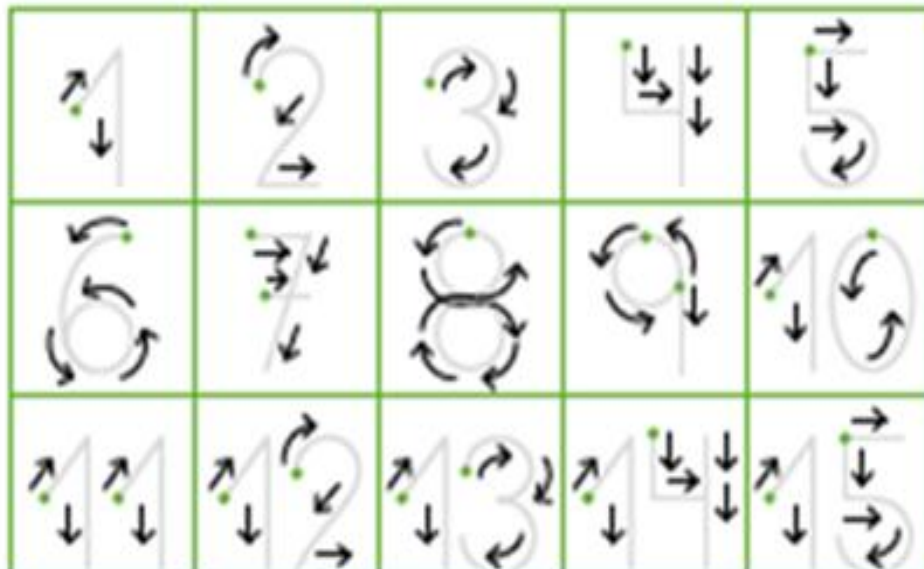
10	3	9	7	6
----	---	---	---	---

¿Cuántos puntos hay encima de cada número?

1	2	3	4	5	6	7	8	9	10

11	12	13	14	15

Escribe los números como lo indican las flechas, partiendo de los puntitos de color:






Escuela Atenea
Cañete n° 1631-Conchalí
Fono: 232446118

Asignatura: Educación Matemática
Profesora: Sofía Elena Quijada Torres
Asistente de la Educación: Nicol Mella

- Un adulto lee los siguientes ejercicios a la estudiante y ella responde colocando el número correcto, según corresponda:

	<p>¿Cuántos gorros de cumpleaños hay?</p> <p>Hay <input type="text"/> gorros.</p>
---	---

	<p>¿Cuántas guindas hay?</p> <p>Hay <input type="text"/> guindas.</p>
---	---

<p>El cumpleaños de Mimi</p> 	<p>¿Cuántas personas hay en la fiesta?</p> <p>Hay <input type="text"/> personas.</p>
---	--

<p>Aquí hay 11 niños.</p> 	<p>¿Cuántas sillas hay? Hay <input type="text"/> sillas.</p>
--	--



Escuela Atenea
Cañete n° 1631-Conchalí
Fono: 232446118

Asignatura: Educación Matemática
Profesora: Sofía Elena Quijada Torres
Asistente de la Educación: Nicol Mella

Completa la secuencia de números escribiendo los que faltan en los cuadritos en blanco:

5	6		8	9		11	12			15
---	---	--	---	---	--	----	----	--	--	----

3		5		7	8		10		12	
---	--	---	--	---	---	--	----	--	----	--

		4		6			9			
--	--	---	--	---	--	--	---	--	--	--


Lee los siguientes números de la secuencia numérica:

8	9	10	11	12	13	14	15
---	---	----	----	----	----	----	----

Recita los números de la secuencia de números desde el **7** al **15**.




Encierra con una cuerda 13 pingüinos.



Numera cada uno de tus 13 pingüinos escribiendo el número en su pecho.

Encierra con una cuerda 15 pingüinos.



Numera cada uno de tus 15 pingüinos escribiendo el número en su pecho.



Escuela Atenea
Cañete n° 1631-Conchalí
Fono: 232446118

Asignatura: Educación Matemática
Profesora: Sofía Elena Quijada Torres
Asistente de la Educación: Nicol Mella

- Realicemos un dictado para saber si hemos aprendido los números del 0 al 15 (familia, por favor, dictar los números a su pupila de forma desordenada. Ejemplo 2, 6, 8, 0 etc.)

a) _____	f) _____	k) _____
b) _____	g) _____	l) _____
c) _____	h) _____	m) _____
d) _____	i) _____	n) _____
e) _____	j) _____	ñ) _____
		o) _____

Que interesante es estudiar y aprender!!!!!!





Escuela Atenea
Cañete n° 1631-Conchalí
Fono: 232446118

Asignatura: Educación Matemática
Profesora: Sofía Elena Quijada Torres
Asistente de la Educación: Nicol Mella